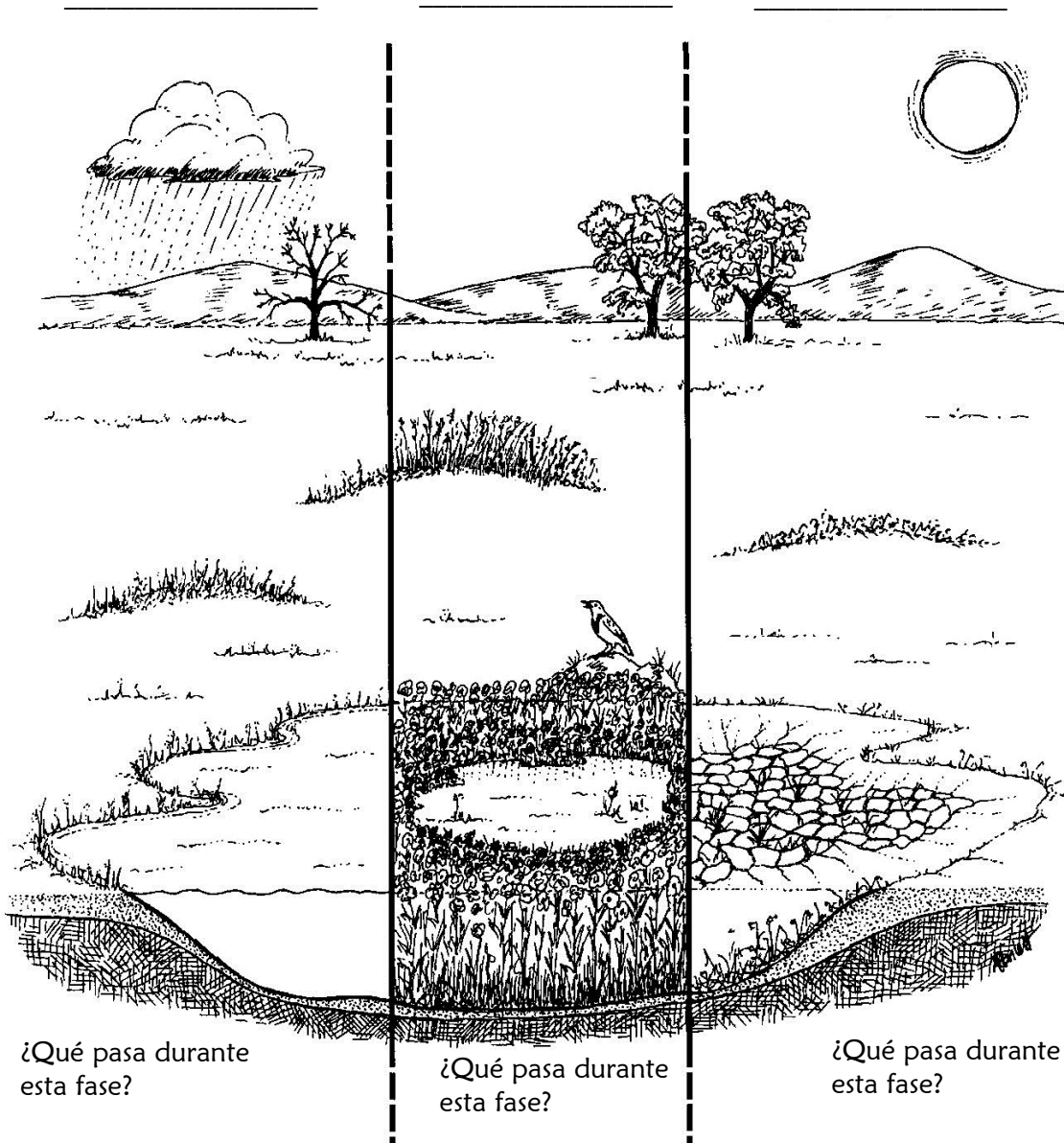


Nombre _____

Las Tres Fases de las lagunitas temporales

Escribe los nombres de las tres fases:



¿Qué pasa durante esta fase?

¿Regularmente cuándo ocurre esta fase?

¿Qué pasa durante esta fase?

¿Regularmente cuándo ocurre esta fase?

¿Qué pasa durante esta fase?

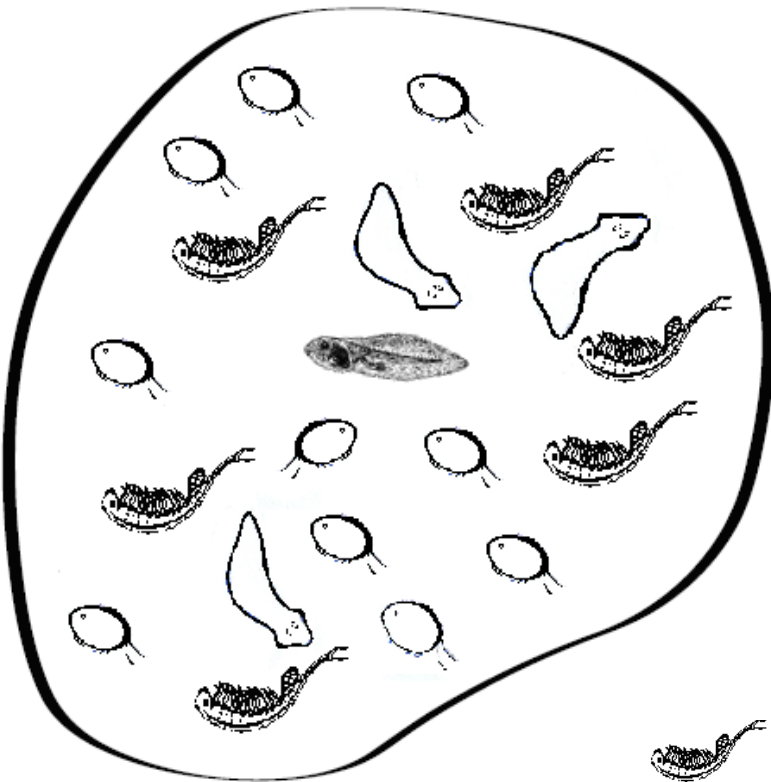
¿Regularmente cuándo ocurre esta fase?

Hoja de Actividades: Macros de las P.V.

Nombre: _____

Instrucciones: Cuenta el número de cada tipo de Macro-invertebrados y completa la tabla. Crea una clave de color en la tabla de datos y usa la clave para completar la gráfica de pastel. ¿Qué puede aprender un científico contando a la población de diferentes macro-invertebrados cada semana? ¿Cada año?

Macro-invertebrados



Macro Grafica de Pastel

5% _____

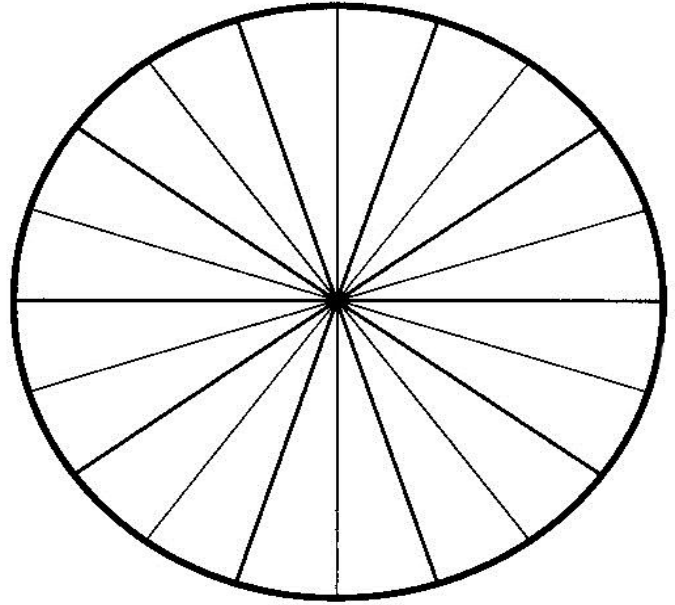


Tabla de Datos

	Colores	Numero	Fraccion	%
Fairy Shrimp				
Seed Shrimp				
Tadpole				
Flat worm				
Total				

Nombre _____

Respuestas

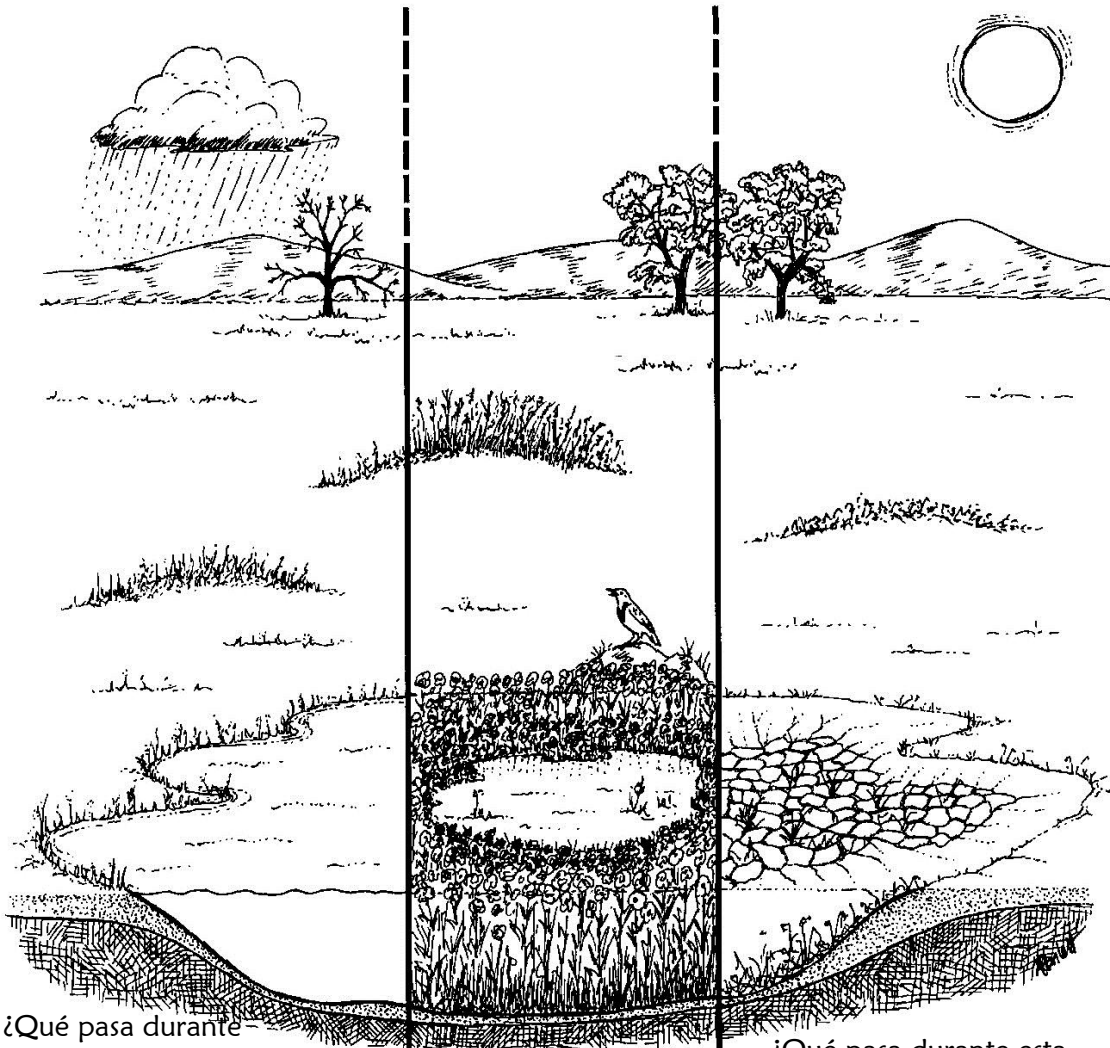
Las Tres Fases de las lagunitas temporales

Escribe los nombres de las tres fases:

Fase Humeda

Fase de Floracion

Fase Seca



¿Qué pasa durante esta fase?

Las lagunitas temporales se llenan de agua y los organismos comienzan a nacer y reproducirse

¿Regularmente cuándo ocurre esta fase?

Invierno/principios de la primavera

¿Qué pasa durante esta fase?

Las flores florecen, las semillas se forman rápidamente y las piscinas comienzan a evaporarse. Los quistes son depositados en las piscinas

¿Regularmente cuándo ocurre esta fase?

Primavera

¿Qué pasa durante esta fase?

El agua de las piscinas se evapora y se seca. Los quistes y las semillas permanecen inactivos esperando a que las piscinas se llenen de nuevo.

¿Regularmente cuándo ocurre esta fase?

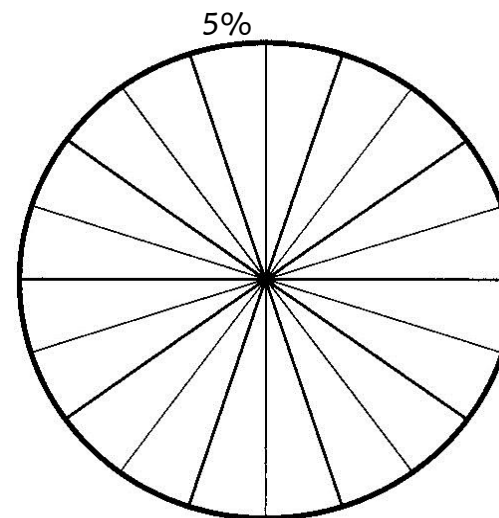
Verano/Otoño

Name: _____

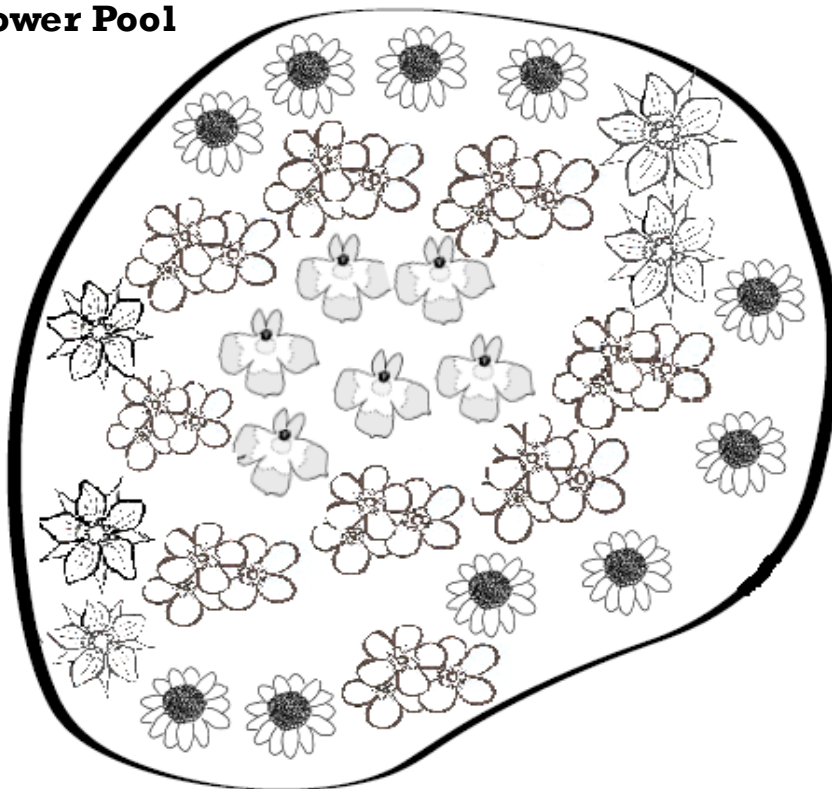
Hoja de Actividad: Pastel de Flores





Científicos regularmente cuentan las poblaciones de plantas para así determinar que flores crecen en el área. Cuentan las plantas para ver si la población crece, reduce o se mantiene estable.

Instrucciones: Cuenta el numero de cada tipo de flor y completa la siguiente tabla. Crea una clave usando colores, usa la clave en la tabla y completa la grafica de pastel. Como puedes ocupar estos datos para ver si las lagunitas temporales temporales son diferentes y para ver cuando



Flower Pool



Data Table		Color Code	Count	Fraction	%
	Dwarf Woolly Meadowfoam				
	Gold-Fields				
	Popcorn Flower				
	Downingia				
Totals					